
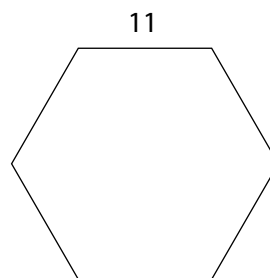
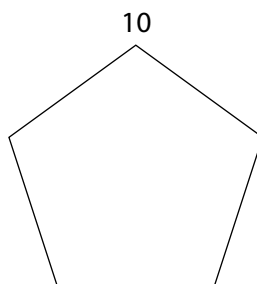
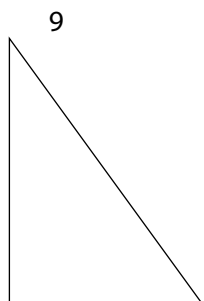
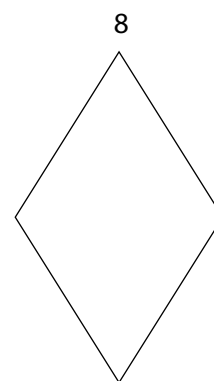

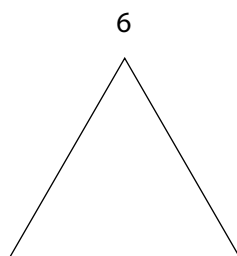
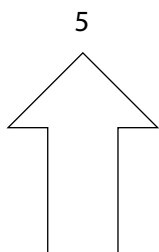
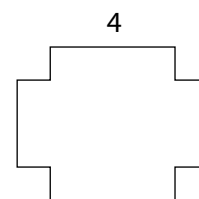
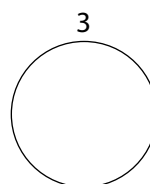
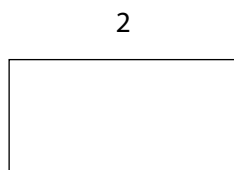
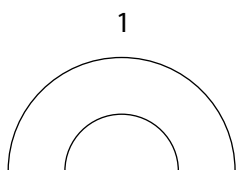


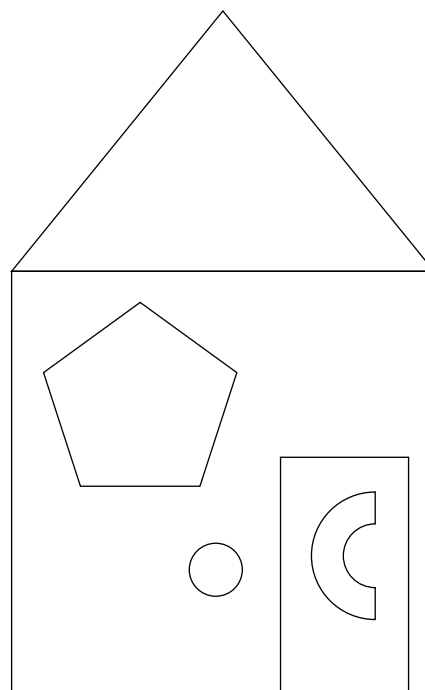
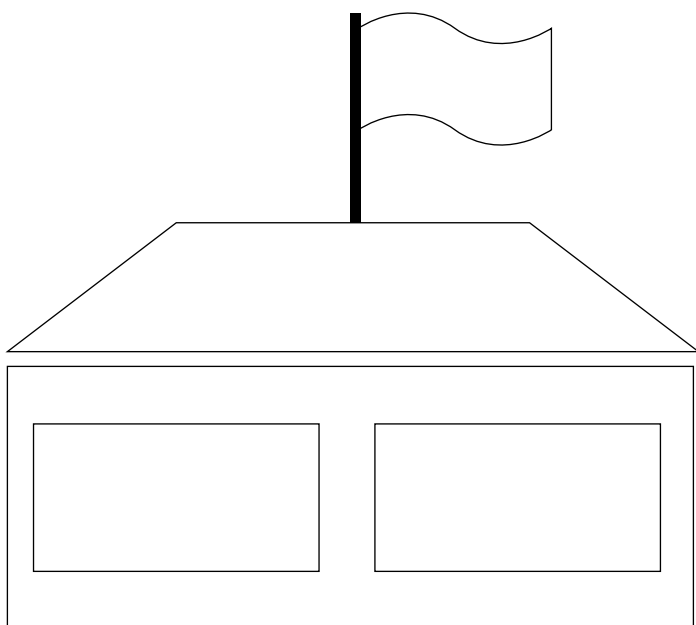



1

Teken of kleur.



- a Zet een kruisje in alle veelhoeken.
- b Overtrek de omtrek van figuur 1 en 4 met rood.
- c Hoeveel vierhoeken kun je vinden?
- d Teken de diagonalen in figuur 11.
- e Duid in figuur 7 de basis aan met blauw en de hoogte met groen.
- f Overtrek in figuur 2 een paar overstaande zijden met zwart.
- g Teken in figuur 8 in de gelijke overstaande hoeken een boogje in dezelfde kleur.
- h Kleur de oppervlakte van de vijfhoek geel.



- a** Duid de omtrek van alle driehoeken aan met rood.
- b** Zoek de twee rechthoekige ramen in het huis.
 - 1 Teken in het ene raam de diagonalen.
 - 2 Kleur in het andere raam de basis blauw en de hoogte groen.
- c** Kleur alle niet-veelhoeken geel.
- d** Kleur de oppervlakte van de vijfhoek blauw.