

# Honderdveld

1	2	3	4	5	6	7	8	9	10
11	12	13	14	15	16	17	18	19	20
21	22	23	24	25	26	27	28	29	30
31	32	33	34	35	36	37	38	39	40
41	42	43	44	45	46	47	48	49	50
51	52	53	54	55	56	57	58	59	60
61	62	63	64	65	66	67	68	69	70
71	72	73	74	75	76	77	78	79	80
81	82	83	84	85	86	87	88	89	90
91	92	93	94	95	96	97	98	99	100

Naam: \_\_\_\_\_

Groep: \_\_\_\_\_

Schooljaar: \_\_\_\_\_








## Het 20-veld

										0
1	2	3	4	5	6	7	8	9	10	
11	12	13	14	15	16	17	18	19	20	

## Oefening 1

Welk cijfer staat op de plaats van het symbool?



\_\_\_\_\_



\_\_\_\_\_



\_\_\_\_\_



\_\_\_\_\_



\_\_\_\_\_

## Oefening 2

Vul de cijfers in.

4 – 7 – 12 – 14 – 20


**Oefening 3**

Welk cijfer staat op de plaats van het symbool?

									0
				☺					10
									20
							○		30
									40
✋									50
									60
					II				70
									80
								△	90
℞									100

☺    \_\_\_\_\_  
 ○    \_\_\_\_\_  
 ✋    \_\_\_\_\_  
       \_\_\_\_\_

II    \_\_\_\_\_  
 △    \_\_\_\_\_  
 ℞    \_\_\_\_\_  
       \_\_\_\_\_

### Oefening 4

Kleur de tientallen.

10	3	20	14	50
33	25	40	70	78
89	30	60	45	100
50	90	86	80	11

### Oefening 5

Vul de volgende getallen in in het honderdveld.

100 – 34 – 98 – 55 – 60 – 0 – 91 – 68 – 12 – 82 – 9 – 39 – 74 – 33 – 29

11									
							28		
									40
			54						
					76				
						97			

13 - 46 - 50 - 82 - 12 - 55 - 95 - 7 - 33 - 63 - 20 - 99 - 49 - 25 - 72

									0
		3							
							18		
	32								
					56				
									70
91									

45 - 61 - 50 - 90 - 7 - 87 - 42 - 68 - 59 - 96 - 36 - 41 - 56 - 12 - 33

									0
				5					
							27		
	92								

## Oefening 6

Er zijn stukken uit het honderdveld geknipt. Enkele getallen zijn reeds ingevuld.

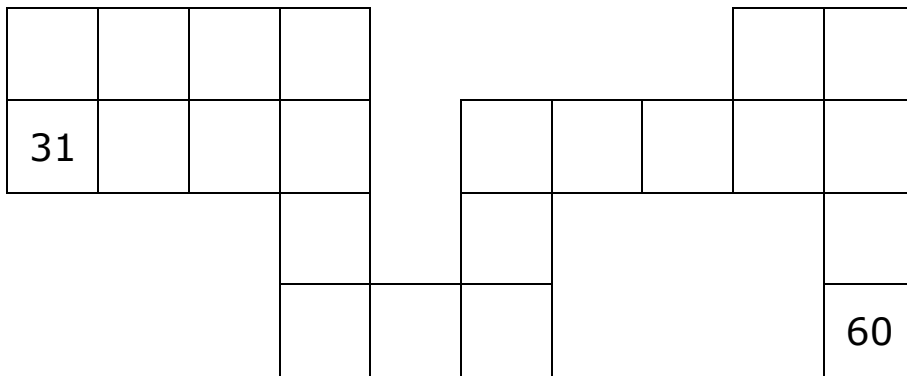
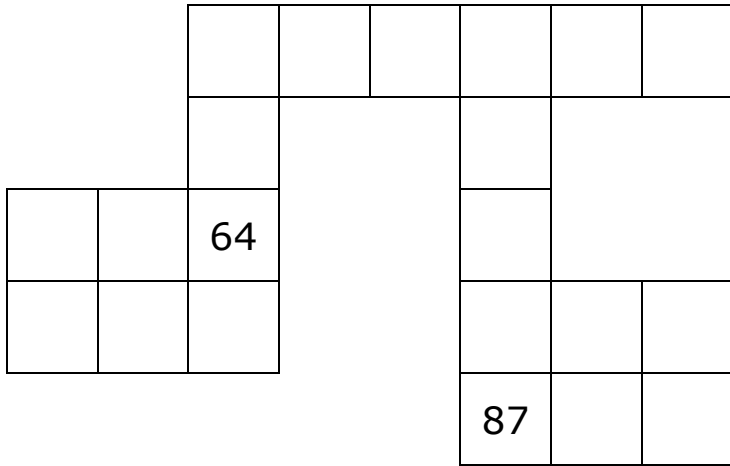
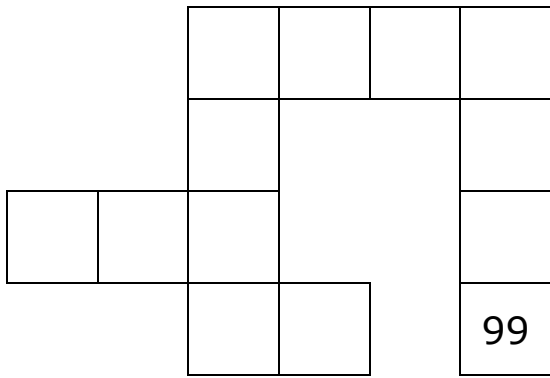
Vul de juiste getallen in in de lege hokjes.

15			
			28

				57

	13	14		16		
22			25			
			45			

44		46		48		
	55					
		66				





### **Oefening 7**

Vul het honderdveld volledig in.


### **Oefening 8**

Knip de getallen uit van het knipblad achteraan in je bundel.

Kleef het getal bij de juiste zin.

Je mag gebruik maken van je ingevuld honderdveld hierboven.

een getal dat 10 meer is dan 25	
een getal dat 1 meer is dan 17	
een getal dat 10 minder is dan 24	

Zoek een getal dat 3 tientallen en 6 eenheden heeft	
een getal dat 1 minder is dan 73	
een getal dat 10 meer is dan 62	
een getal dat 1 meer is 24	
een getal dat 10 minder is dan 60	
een getal dat 1 minder is dan 88	
een getal dat 10 meer is dan 17	
Zoek een getal dat 4 tientallen en 9 eenheden heeft	
een getal dat 10 minder is dan 38	
een getal dat 1 minder is dan 94	
een getal dat tien meer is dan 51	
Zoek een getal dat 9 tientallen en 4 eenheden heeft	

een getal dat 1 meer is dan 29	
een getal dat 10 minder is dan 16	
een getal dat 10 meer is dan 84	
een getal dat 1 minder is dan 41	
Zoek een getal dat 5 tientallen en 0 eenheden heeft	
een getal dat 10 meer is dan 8	
een getal dat 1 minder is dan 64	
een getal dat 10 minder is dan 72	
Zoek een getal dat 5 tientallen en 4 eenheden heeft	
een getal dat 10 meer is dan 29	
een getal dat 1 meer is dan 46	
een getal dat 10 meer is dan 47	

Zoek een getal dat 1 tiental en 5 eenheden heeft	
een getal dat 10 minder is dan 95	
een getal dat 10 meer is dan 66	
een getal dat 1 meer is dan 50	
Zoek een getal dat 7 tientallen en 2 eenheden heeft	
een getal dat 10 meer is dan 90	
een getal dan 1 meer is dan 67	
een getal dat 10 minder is dan 53	
Zoek een getal dat 2 tientallen en 8 eenheden heeft	
een getal dat 10 minder is dan 79	

## Oefening 9

Los de opdracht op.

									0
1	2	3	4	5	6	7	8	9	10
11	12	13	14	15	16	17	18	19	20
21	22	23	24	25	26	27	28	29	30
31	32	33	34	35	36	37	38	39	40
41	42	43	44	45	46	47	48	49	50
51	52	53	54	55	56	57	58	59	60
61	62	63	64	65	66	67	68	69	70
71	72	73	74	75	76	77	78	79	80
81	82	83	84	85	86	87	88	89	90
91	92	93	94	95	96	97	98	99	100

- Kleur alle tientallen geel.
- Kleur het getal met 6 tientallen en 5 eenheden oranje.
- Kleur het getal dat tussen 74 en 76 staat rood.
- Kleur het getal dat boven 36 staat blauw.
- Kleur het getal dat onder 52 staat groen.
- Kleur de getallen die naast 88 staan paars.
- Kleur het getal dat juist voor 56 staat roze.
- Kleur het getal dat juist na 15 staat grijs.

## Oefening 10

									0
1	2	3	4	5	6	7	8	9	10
11	12	13	14	15	16	17	18	19	20
21	22	23	24	25	26	27	28	29	30
31	32	33	34	35	36	37	38	39	40
41	42	43	44	45	46	47	48	49	50
51	52	53	54	55	56	57	58	59	60
61	62	63	64	65	66	67	68	69	70
71	72	73	74	75	76	77	78	79	80
81	82	83	84	85	86	87	88	89	90
91	92	93	94	95	96	97	98	99	100

<p><b>Kleur 35 groen</b></p> <p>boven 35 staat _____</p> <p>voor 35 staat _____</p> <p>onder 35 staat _____</p> <p>na 35 komt _____</p>	<p><b>Kleur 82 rood</b></p> <p>boven 82 staat _____</p> <p>voor 82 staat _____</p> <p>onder 82 staat _____</p> <p>na 82 komt _____</p>
<p><b>Kleur 48 blauw</b></p> <p>boven 48 staat _____</p> <p>voor 48 staat _____</p> <p>onder 48 staat _____</p> <p>na 48 komt _____</p>	<p><b>Kleur 23 geel</b></p> <p>boven 23 staat _____</p> <p>voor 23 staat _____</p> <p>onder 23 staat _____</p> <p>na 23 komt _____</p>

## Oefening 11

Wat zijn de buurgetallen.

	62	
--	----	--

	33	
--	----	--

	78	
--	----	--

	92	
--	----	--

	49	
--	----	--

	37	
--	----	--

	68	
--	----	--

	99	
--	----	--

	52	
--	----	--

	15	
--	----	--

	63	
--	----	--

	59	
--	----	--

## Oefening 12

Vul in. Je mag een ingevuld honderdveld gebruiken.

net na 37 staat _____	3 plaatsen na 18 komt _____
boven 25 staat _____	2 plaatsen voor 99 komt _____
net voor 54 komt _____	1 plaats voor 54 komt _____
onder 63 staat _____	tussen 94 en 96 komt _____
net na 75 komt _____	boven 96 staat _____
onder 82 staat _____	tussen 34 en 36 komt _____
36 staat tussen _____ en _____	net voor 13 komt _____
onder 21 staat _____	net na 57 staat _____





## Knipblad oefening 8

35	72	49	30	18	47	51	28
18	25	28	6	63	57	72	69
12	50	93	94	62	15	100	72
27	94	50	39	76	43	36	87
61	40	54	85	68			